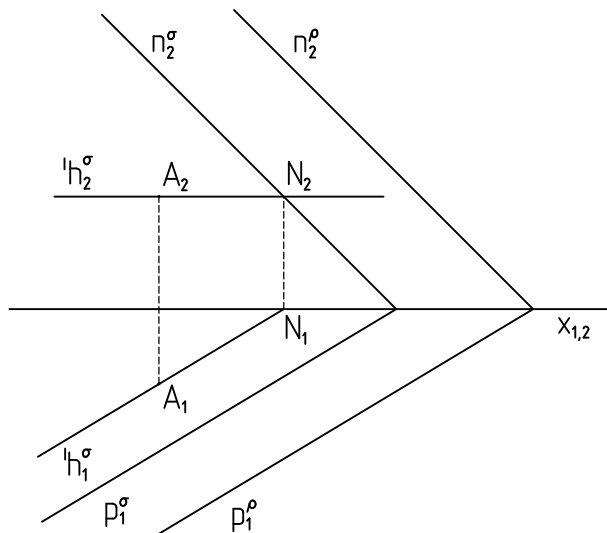


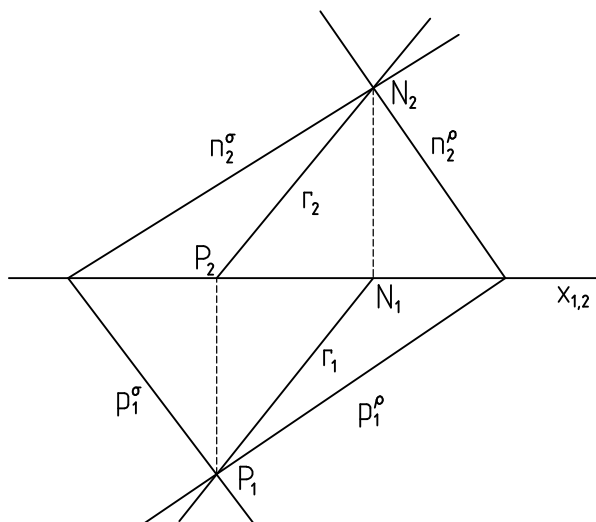
Příklad č. 1

Bodem A veďte rovinu σ rovnoběžnou s rovinou ρ .



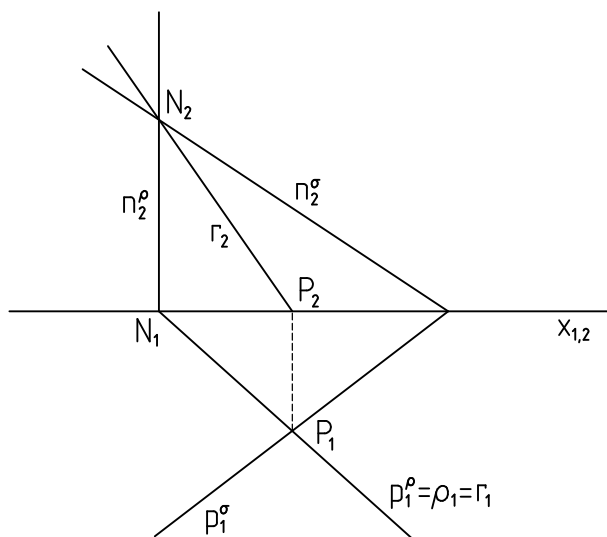
Příklad č. 2

Sestrojte průsečnici rovin ρ a σ .



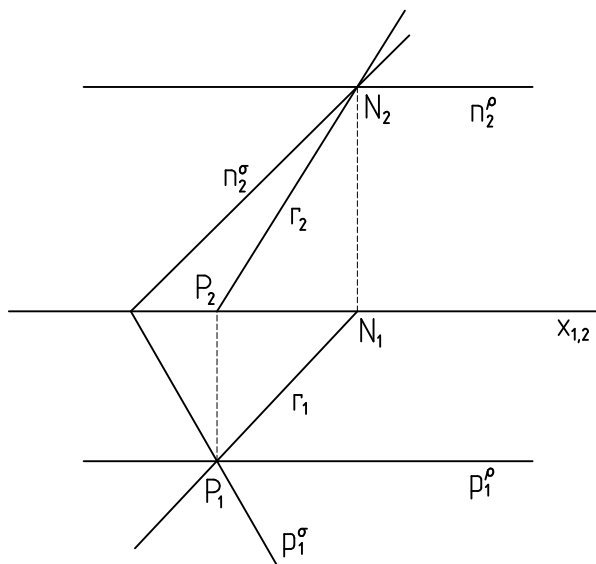
Příklad č. 3

Sestrojte průsečnici rovin ρ a σ .



Příklad č. 4

Sestrojte průsečnici rovin ρ a σ .



INVESTICE DO ROZVOJE VZDĚLÁVÁNÍ

Pracovní list byl vytvořen v rámci projektu „Nová cesta za poznáním“, reg. č. CZ.1.07/1.5.00/34.0034, za finanční podpory Evropského sociálního fondu a rozpočtu České republiky.



Uvedená práce (dílo) podléhá licenci Creative Commons
Uvedte autora – Nevyužívejte dílo komerčně – Zachovejte licenci 3.0 Česko