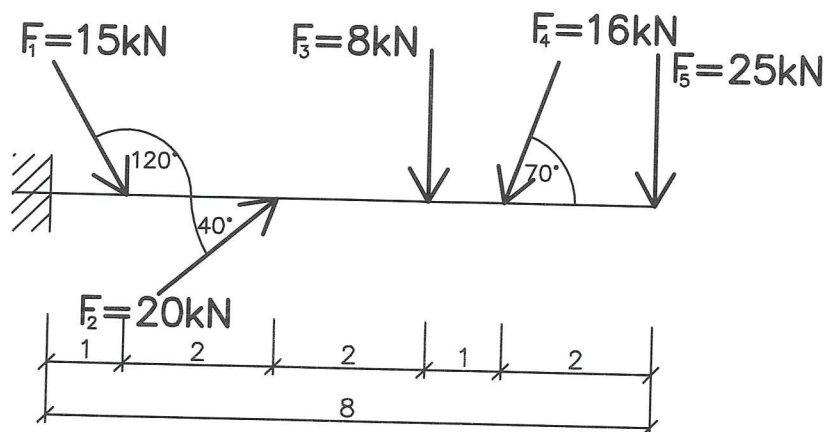
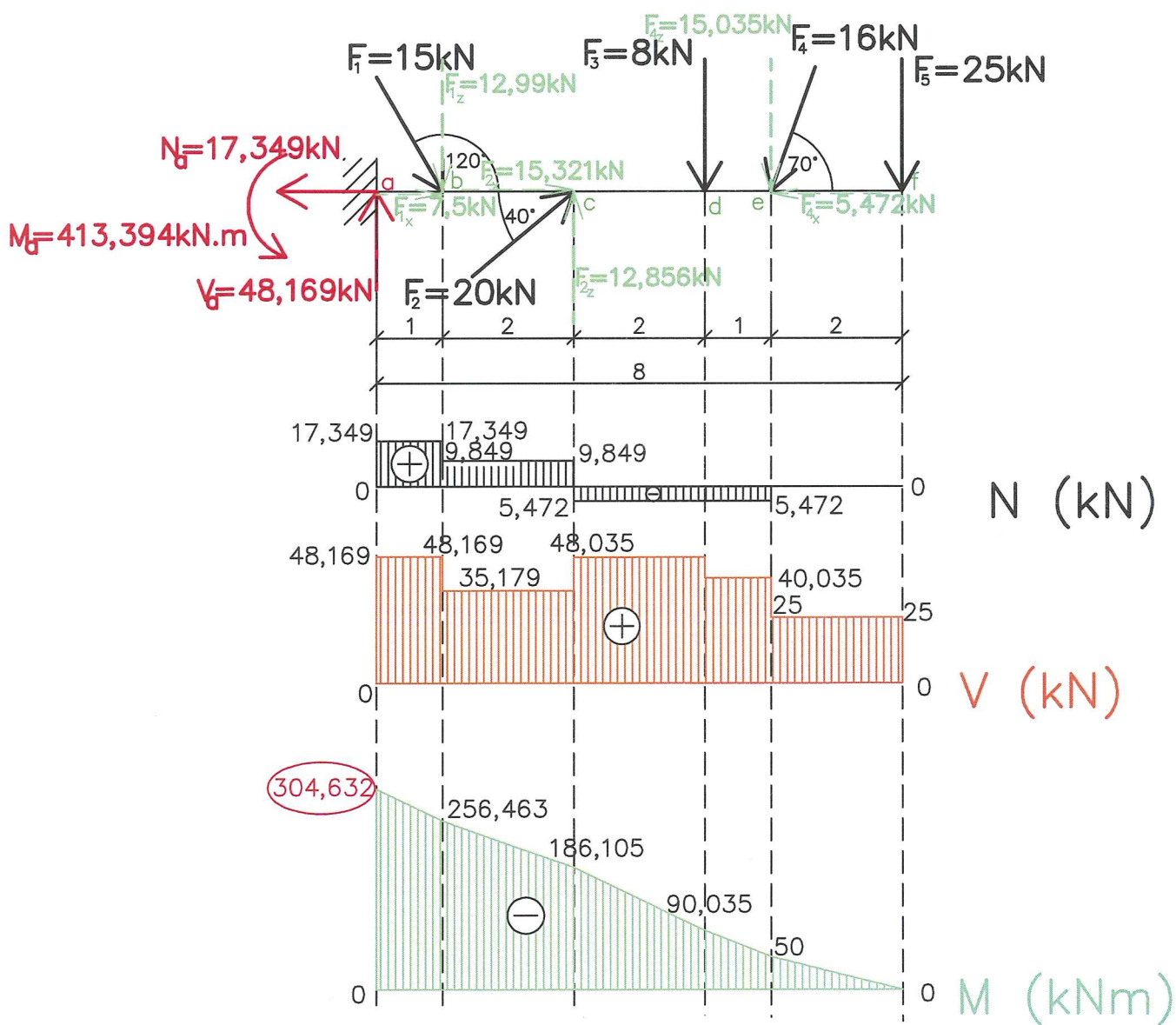


1.2.3 Konzola zatížená osamělými břemeny

ZADÁNÍ



ŘEŠENÍ



## POSTUP K ŘEŠENÍ:

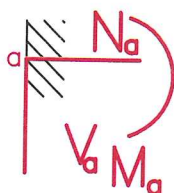
### A/ VYŘEŠÍME REAKCE

1) Rozložení šikmých sil

$$\begin{aligned} F_1 & \begin{cases} F_{1x} = F_1 \cdot \cos 60^\circ = 15 \cdot \cos 60^\circ = \underline{7,5 \text{ kN}} \\ F_{1z} = F_1 \cdot \sin 60^\circ = 15 \cdot \sin 60^\circ = \underline{12,99 \text{ kN}} \end{cases} \\ F_2 & \begin{cases} F_{2x} = F_2 \cdot \cos 40^\circ = 20 \cdot \cos 40^\circ = \underline{15,321 \text{ kN}} \\ F_{2z} = F_2 \cdot \sin 40^\circ = 20 \cdot \sin 40^\circ = \underline{12,856 \text{ kN}} \end{cases} \\ F_4 & \begin{cases} F_{4x} = F_4 \cdot \cos 70^\circ = 16 \cdot \cos 70^\circ = \underline{5,472 \text{ kN}} \\ F_{4z} = F_4 \cdot \sin 70^\circ = 16 \cdot \sin 70^\circ = \underline{15,035 \text{ kN}} \end{cases} \end{aligned}$$

2) Označím podporu **a**

3) Podle typu podpory naznačím předpokládané reakce:



4) Vypočítáme reakce

a) Pomocí silové podmínky rovnováhy do osy **x** vypočítáme reakci **Na**:

$$\sum_{i=1}^n F_{xi} = 0 \quad \leftarrow \quad \begin{matrix} - \\ + \end{matrix}$$

$$N_a + F_{1x} + F_{2x} - F_{4x} = 0$$

$$N_a + 7,5 + 15,321 - 5,472 = 0$$

$$N_a = \underline{-17,349 \text{ kN} \leftarrow}$$

b) Pomocí silové podmínky do osy **z** vypočítáme reakci **Va**:

$$\sum_{i=1}^n F_{zi} = 0 \quad \begin{matrix} \uparrow + \\ \downarrow - \end{matrix}$$

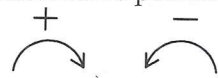
$$V_a - F_{1z} + F_{2z} - F_3 - F_{4z} - F_5 = 0$$

$$V_a - 12,99 + 12,856 - 8 - 15,035 - 25 = 0$$

$$V_a = \underline{48,169 \text{ kN} \uparrow}$$

c) Pomocí momentové podmínky k bodu **f** vypočítáme reakci **Ma**.

$$\sum_{i=1}^n M_{fi} = 0$$

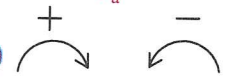


$$M_a + V_a \cdot 8 - F_{1z} \cdot 7 + F_{2z} \cdot 5 - F_3 \cdot 3 - F_{4z} \cdot 2 = 0$$

$$M_a + 48,169 \cdot 8 - 12,99 \cdot 7 + 12,856 \cdot 5 - 8 \cdot 3 - 15,035 \cdot 2 = 0$$

$$M_a = \underline{\underline{-304,632 \text{ kNm}}}$$

- d) Pomocí momentové podmínky rovnováhy k bodu **a** můžeme zjistit správnost vypočítané hodnoty reakce  $V_a$ :


$$\sum_{i=1}^n M_{a_i} = 0$$


$$-M_a + F_{1z} \cdot 1 - F_{2z} \cdot 3 + F_3 \cdot 5 + F_{4z} \cdot 6 + F_5 \cdot 8 = 0$$

$$-304,632 + 12,99 \cdot 1 - 12,856 \cdot 3 + 8 \cdot 5 + 15,035 \cdot 6 + 25 \cdot 8 = 0$$

$$0 = 0 \quad \checkmark$$

## B/ VYŘEŠÍME PRŮBĚHY VNITŘNÍCH SIL

- 1) Průběh normálových sil na nosníku (znaménková konvence )

Mezi jednotlivými působišti normálových sil je vždy konstantní průběh, který se mění vždy skokem v působišti nové síly a to právě o hodnotu této normálové síly.

v bodě f:  $N_f^P = 0$


v bodě e:  $N_e^P = -F_{4x} = -5,472 \text{ kN}$

v bodě d:  $N_d^P = N_e^P = -5,472 \text{ kN}$

v bodě c:  $N_c^P = N_d^P + F_{2x} = -5,472 + 15,321 = 9,849 \text{ kN}$

v bodě b:  $N_b^P = N_c^P + F_{1x} = 9,849 + 7,5 = 17,349 \text{ kN}$

v bodě a:  $N_a^P = N_b^P - N_a = 17,349 - 17,349 = 0$  Vracíme se na základní čáru.

- 2) Průběh posouvajících sil na nosníku (znaménková konvence )

Mezi dvěma osamělými břemeny je vždy konstantní průběh. V působišti osamělého břemena se vždy tento průběh mění skokem právě o hodnotu této posouvající síly.

v bodě f:  $V_f^P = F_5 = 25 \text{ kN}$


v bodě e:  $V_e^P = V_f^P + F_{4z} = 25 + 15,035 = 40,035 \text{ kN}$

v bodě d:  $V_d^P = V_e^P + F_3 = 40,035 + 8 = 48,035 \text{ kN}$

v bodě c:  $V_c^P = V_d^P - F_{2z} = 48,035 - 12,856 = 35,179 \text{ kN}$

v bodě b:  $V_b^P = V_c^P + F_{1z} = 35,179 + 12,99 = 48,169 \text{ kN}$

v bodě a:  $V_a^P = V_b^P - V_a = 48,169 - 48,169 = 0$  Vracíme se na základní čáru.

- 3) Průběh ohybových momentů na nosníku (znaménková konvence )

Mezi dvěma osamělými břemeny je vždy lineární průběh (křivka 1.stupně) V působišti osamělého břemena se průběh lomí.

v bodě f:  $M_f^P = 0$

v bodě e:  $M_e^P = -F_5 \cdot 2 = -25 \cdot 2 = -50 \text{ kNm}$

v bodě d:  $M_d^P = -F_5 \cdot 3 - F_{4z} \cdot 1 = -25 \cdot 3 - 15,035 \cdot 1 = -90,035 \text{ kNm}$

v bodě c:  $M_c^P = -F_5 \cdot 5 - F_{4z} \cdot 3 - F_3 \cdot 2 = -25 \cdot 5 - 15,035 \cdot 3 - 8 \cdot 2 = -186,105 \text{ kNm}$

v bodě b:  $M_b^L = -M_a + V_a \cdot 1 = -304,632 + 48,169 \cdot 1 = -256,463 \text{ kNm}$

v bodě a:  $M_a^L = -M_a = -304,632 \text{ kNm}$

Nejen, že zprava nepůsobí žádné síly, ale jde o konec prostého nosníku, kde je vždy  $M = 0$ .

**Poznámka:** NEBEZPEČNÝ PRŮŘEZ je v bodě **a**, kde je maximální ohybový moment o velikosti  $-304,632 \text{ kNm}$ .