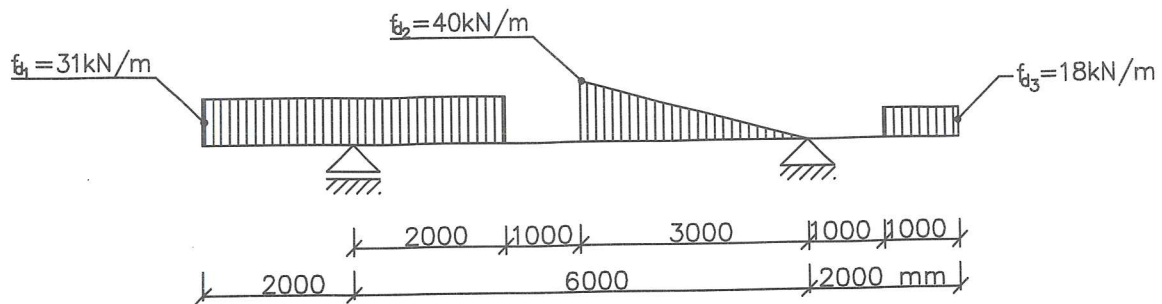
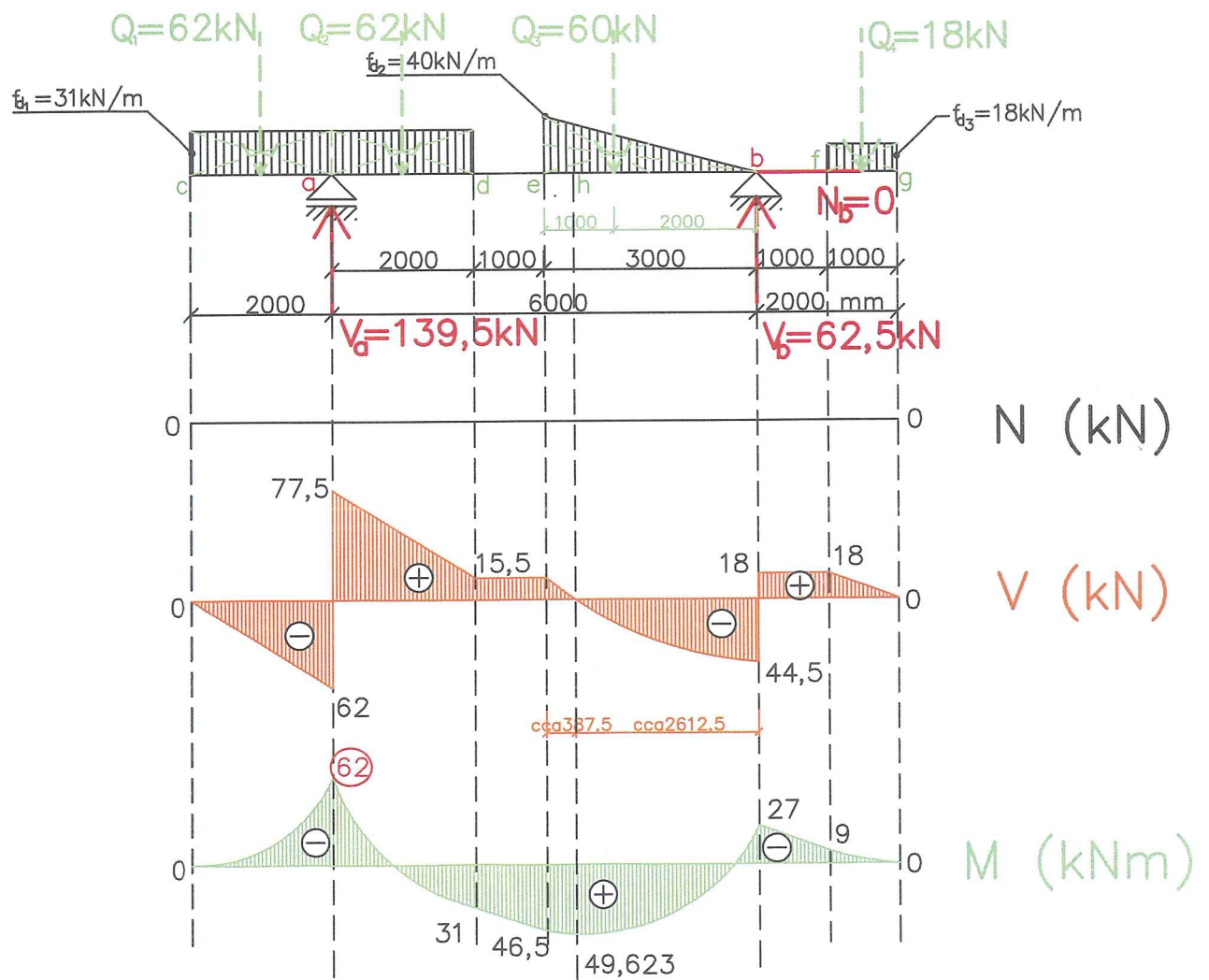


2.1.6 Prostý nosník s převislými konci zatížený spojitým zatížením rovnoměrným i trojúhelníkovým

ZADÁNÍ



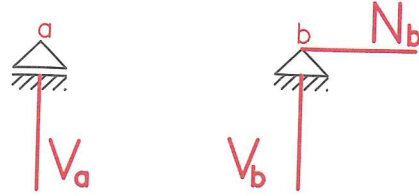
ŘEŠENÍ



POSTUP K ŘEŠENÍ:

A/ VYŘEŠÍME REAKCE

- 1) Označíme podpory **a**, **b** a zajímavá místa
- 2) Naznačíme průběh reakcí podle typu podpory



- 3) Vypočítáme náhradní břemena

$$Q_1 = f_{d1} \cdot 2 = 31 \cdot 2 = 62 \text{ kN}$$

$$Q_2 = f_{d1} \cdot 2 = 31 \cdot 2 = 62 \text{ kN}$$

$$Q_3 = \frac{1}{2} \cdot f_{d2} \cdot 3 = \frac{1}{2} \cdot 40 \cdot 3 = 60 \text{ kN}$$

$$Q_4 = f_{d3} \cdot 1 = 18 \cdot 1 = 18 \text{ kN}$$

- 4) Vypočítáme reakce

- a) Pomocí silové podmínky rovnováhy do osy x vypočítáme reakci **N_b**.

$$\sum_{i=1}^n F_{xi} = 0 \quad \leftarrow \begin{array}{c} - \\ + \end{array}$$

$$N_b = \underline{0}$$

- b) Pomocí momentové podmínky rovnováhy k bodu **b** vypočítáme reakci **V_a**.

$$\sum_{i=1}^n M_{bi} = 0 \quad \begin{array}{c} + \\ - \end{array}$$

$$V_a \cdot 6 - Q_1 \cdot 7 - Q_2 \cdot 5 - Q_3 \cdot 2 + Q_4 \cdot 1,5 = 0$$

$$V_a \cdot 6 - 62 \cdot 7 - 62 \cdot 5 - 60 \cdot 2 + 18 \cdot 1,5 = 0$$

$$V_a \cdot 6 = 837$$

$$V_a = \underline{139,5 \text{ kN}}$$

- c) Pomocí silové podmínky rovnováhy do osy z vypočítáme reakci **V_b**.

$$\sum_{i=1}^n F_{zi} = 0 \quad \begin{array}{c} + \\ - \end{array}$$

$$-Q_1 + V_a - Q_2 - Q_3 + V_b - Q_4 = 0$$

$$-62 + 139,5 - 62 - 60 + V_b - 18 = 0$$

$$V_b = \underline{62,5 \text{ kN}}$$

- d) Pomocí momentové podmínky rovnováhy k bodu **c** si ověříme, že máme reakce vypočítány správně.

$$\sum_{i=1}^n M_{ci} = 0$$



$$Q_1 \cdot 1 - V_a \cdot 2 + Q_2 \cdot 3 + Q_3 \cdot 6 - V_b \cdot 8 + Q_4 \cdot 9,5 = 0$$

$$62 \cdot 1 - 139,5 \cdot 2 + 62 \cdot 3 + 60 \cdot 6 - 62,5 \cdot 8 + 18 \cdot 9,5 = 0$$

$$0 = 0 \checkmark$$

B/ VYŘEŠÍME PRŮBĚHY VNITŘNÍCH SIL

- 1) Výpočet průběhu normálových sil (znaménková konvence $\leftarrow \oplus \rightarrow$)
Protože se zde nevyskytují žádné normálové síly, je zde nulový průběh normálových sil.

- 2) Výpočet průběhu posouvajících sil (znaménková konvence $\uparrow \oplus \downarrow$)
- Z bodu c do bodu a je lineární průběh a mění se o velikost náhradního břemena Q_1 .
 - V bodě a dojde v průběhu ke skoku a to o velikosti hodnoty reakce V_a .
 - Z bodu a do bodu d je lineární průběh a mění se o velikost náhradního břemena Q_2 .
 - Z bodu d do bodu e je průběh konstantní.
 - Z bodu e do bodu b je průběh křivka 2.stupně a mění se o velikost náhradního břemena Q_3 .
 - Z bodu b do bodu f je průběh konstantní.
 - Z bodu f do bodu g je průběh lineární a mění se o velikost náhradního břemena Q_4 .

v bodě c: $V_c^L = 0$

v bodě a: $V_{a1}^L = V_c^L - Q_1 = 0 - 62 = -62 \text{ kN}$

$$V_{a2}^L = V_{a1}^L + V_a = -62 + 139,5 = 77,5 \text{ kN}$$

v bodě d: $V_d^L = V_{a2}^L - Q_2 = 77,5 - 62 = 15,5 \text{ kN}$

v bodě e: $V_e^L = V_d^L = 15,5 \text{ kN}$

v bodě b: $V_{b1}^L = V_e^L - Q_3 = 15,5 - 60 = -44,5 \text{ kN}$

$$V_{b2}^L = V_{b1}^L + V_b = -44,5 + 62,5 = 18 \text{ kN}$$

v bodě f: $V_f^L = V_{b2}^L = 18 \text{ kN}$

v bodě g: $V_g^L = V_f^L - Q_4 = 18 - 18 = 0$

Mezi body e a b může být místo nebezpečného průřezu. Přesné místo musíme najít, protože jde o trojúhelníkové zatížení \rightarrow křivka 2. stupně, je těžší určit místo přesně. Spokojíme se tedy s přibližným místem, které nám pro naše účely stačí.

$$X_L = |V_e^L| / f_{d2} = 15,5 / 40 = 0,3875 \text{ m}$$

$$X_p = 3 - X_L = 3 - 0,3875 = 2,6125 \text{ m}$$


Místo možného nebezpečného průřezu označíme h.

Určíme náhradní břemeno např. zprava od bodu h do b, které označíme Q_{3p} .

$$f_{dx} / 2,6125 = 40/3$$

$$f_{dx} = 40/3 \cdot 2,6125 = 34,83 \text{ kN/m}$$

$$Q_{3P} = \frac{1}{2} \cdot f_{dx} \cdot x_P = \frac{1}{2} \cdot 34,83 \cdot 2,6125 = \underline{45,5 \text{ kN}}$$

3) Výpočet průběhu ohybových momentů (znaménková konvence )

- Z bodu **c** do bodu **a** je průběh křivka 2. stupně.
- V bodě **a** dojde ke zlomu, protože zde působí „osamělé břemeno“ (reakce V_a).
- Z bodu **a** do bodu **d** je průběh křivka 2. stupně.
- Z bodu **d** do bodu **e** je průběh lineární.
- Z bodu **e** do bodu **b** je průběh křivka 2. stupně.
- V bodě **b** dojde ke zlomu, protože zde působí „osamělé břemeno“ (reakce V_b).
- Z bodu **b** do bodu **f** je průběh lineární.
- Z bodu **f** do bodu **g** je průběh křivka 2. stupně.

v bodě **c**: $M_c^L = 0$

v bodě **a**: $M_a^L = -Q_1 \cdot 1 = -62 \cdot 1 = \underline{-62 \text{ kNm}}$

v bodě **d**: $M_d^L = -Q_1 \cdot 3 + V_a \cdot 2 - Q_2 \cdot 1 = -62 \cdot 3 + 139,5 \cdot 2 - 62 \cdot 1 = \underline{31 \text{ kNm}}$

v bodě **e**: $M_e^L = -Q_1 \cdot 4 + V_a \cdot 3 - Q_2 \cdot 2 = -62 \cdot 4 + 139,5 \cdot 3 - 62 \cdot 2 = \underline{46,5 \text{ kNm}}$

v bodě **h**: $M_h^P = -Q_4 \cdot 4,1125 + V_b \cdot 2,6125 - Q_{3P} \cdot 0,871 = -18 \cdot 4,1125 + 62,5 \cdot 2,6125 - 45,5 \cdot 0,871 = \underline{49,626 \text{ kNm}}$

v bodě **b**: $M_b^P = -Q_4 \cdot 1,5 = -18 \cdot 1,5 = \underline{-27 \text{ kNm}}$

v bodě **f**: $M_f^P = -Q_4 \cdot 0,5 = -18 \cdot 0,5 = \underline{-9 \text{ kNm}}$

v bodě **g**: $M_g^P = 0$

Poznámka: NEBEZPEČNÝ PRŮŘEZ je v bodě **a**, tzn. že ohybový moment má v tomto místě maximální hodnotu o velikosti -62 kNm .